

全真模拟训练卷 **普 通 学 校 卷** (一)

题号	一	二	三	四	五	六	七	八	九	总分
得分										

## 一、填一填。(共 29 分)

- 7 个一和 5 个十组成的数是( 57 ),10 个十组成的数是( 100 )。
- 34 的十位上是( 3 ),表示( 3 个十 );个位上是( 4 ),表示( 4 个一 )。
- 比 59 多 1 的数是( 60 ),比 80 少 1 的数是( 79 )。
- 一个数是 55,另一个数是 27,它们的和是( 82 ),差是( 28 )。
- 最小的三位数和最大的两位数相差( 1 )。
- 与 70 相邻的两个数是( 69 )和( 71 )。
- 从 1,8,5 这三个数字中任选两个数字组成的两位数中,最大的是( 85 ),最小的是( 15 )。
- 在 ○ 里填上“>”“<”或“=”。

$$79+19 \bigcirc 75+9 \quad 51+9 \bigcirc 91-15 \quad 43-20 \bigcirc 20+3$$

$$57-18 \bigcirc 57+18 \quad 80-15 \bigcirc 90-25 \quad 36+27 \bigcirc 53-16$$

- 按照从小到大的顺序排列。(3 分)

34      52      68      100      9      63

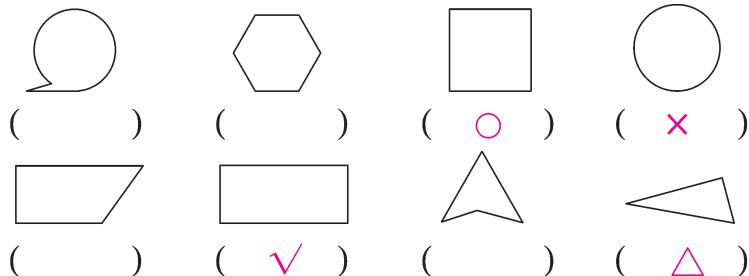
9<34<52<63<68<100

- 找规律填数。(5 分)

25	26	27
35	36	37
45	46	47

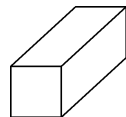
66	76	86
67	77	87
68	78	88

二、下面的图形中,是长方形的画“√”,是正方形的画“○”,是圆的画“×”,是三角形的画“△”。(8分)



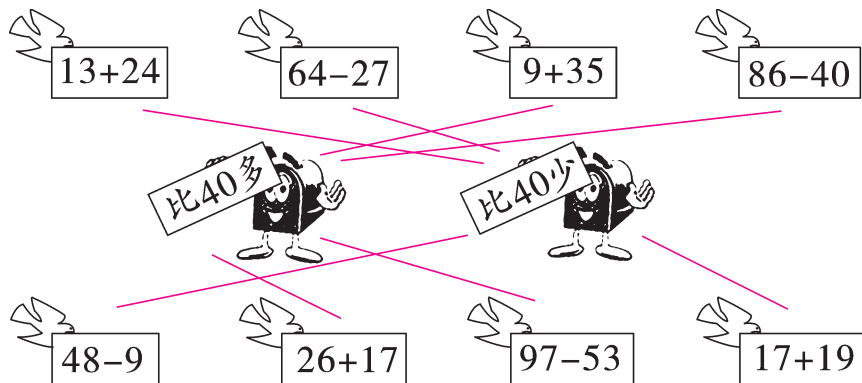
三、选一选,把正确答案的序号填在括号里。(4分)

1. 连环画有34本,故事书比连环画多得多,故事书可能有( C )本。  
 A. 30      B. 37      C. 76
2. 右面的长方体的表面有( C )种不同的图形。  
 A. 3      B. 1      C. 2      D. 4
3. 最小的三位数比最小的两位数大( A )。  
 A. 90      B. 10      C. 1
4. 一个两位数,十位上的数字比个位上的数字小5,这样的两位数共有( A )个。  
 A. 4      B. 5      C. 6

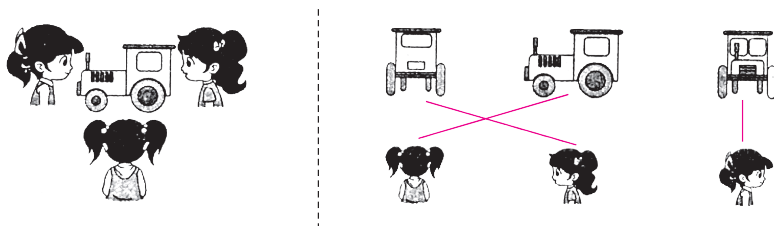


四、连一连。(共7分)

1. 信鸽送信。(4分)



2. 下面的图形分别是谁看到的?(3分)



## 五、算一算。(共 20 分)

### 1. 直接写出得数。(8 分)

$26+32=58$

$75-72=3$

$89-72=17$

$35-17=18$

$54-21=33$

$6+52=58$

$55+14=69$

$58-9=49$

$36-9=27$

$35+20=55$

$57-34=23$

$77+23=100$

$90-9=81$

$4+65=69$

$85-7=78$

$33-26=7$

### 2. 用竖式计算。(12 分)

$32+47=79$

$47+36=83$

$53-47=6$

$$\begin{array}{r} 32 \\ + 47 \\ \hline 79 \end{array}$$

$$\begin{array}{r} 47 \\ + 36 \\ \hline 83 \end{array}$$

$$\begin{array}{r} 53 \\ - 47 \\ \hline 6 \end{array}$$

$8+29=37$

$93-6=87$

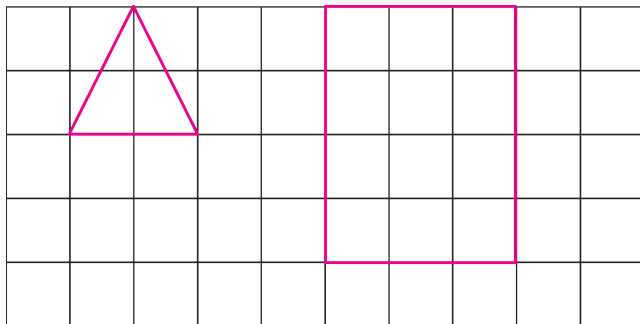
$100-62=38$

$$\begin{array}{r} 8 \\ + 29 \\ \hline 37 \end{array}$$

$$\begin{array}{r} 93 \\ - 6 \\ \hline 87 \end{array}$$

$$\begin{array}{r} 100 \\ - 62 \\ \hline 38 \end{array}$$

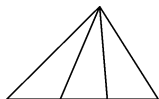
## 六、在方格图里画一个三角形和一个长方形。(4 分)



(画法不唯一)

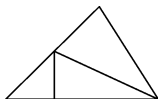
## 七、数一数,下面每个图形里各含有几个三角形?(6 分)

1.



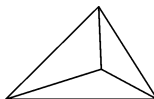
( 6 ) 个

2.



( 5 ) 个

3.



( 4 ) 个

## 八、解决问题。(共 16 分)

1. 12 个同学到山坡上栽树,每人栽 1 棵,已经栽了 7 棵。还要栽多少棵树?(3 分)

【答案】 $12-7=5$ (棵)

口答:还要栽 5 棵树。

2. 小明拍皮球,第一次拍了 35 下,第二次比第一次少拍了 7 下。  
第二次拍了多少下?(3 分)

【答案】 $35-7=28$ (下)

口答:第二次拍了 28 下。

3. 拔萝卜。

我拔了 26 个萝卜。



小白兔

我拔的萝卜比你拔的多得多。



小灰兔

小灰兔可能拔了多少个萝卜?(画“○”)(3 分)

23 个	29 个	62 个
		○

4. 养羊场养了一些羊,卖了 38 只后还剩 56 只。养羊场原来养了多少只羊?(3 分)

【答案】 $38+56=94$ (只)

口答:养羊场原来养了 94 只羊。

5. 90 名同学去春游,租了下面 2 辆车,有多少名同学坐不上车?  
(4 分)



35 座




48 座

【答案】 $35+48=83$ (座)

$90-83=7$ (名)

口答:有 7 名同学坐不上车。

九、(趣味题)摘苹果,填算式。(每个数只能填一次)(6 分)



$$\text{40} + \text{38} = \text{78}$$

$$\text{66} - \text{5} = \text{61}$$

(答案不唯一)